

KLOKKEN

Op de tekening hieronder zie je een gewone 12-uurs klok. Daaronder staat welk tijdstip de klok aangeeft.



- 3p ○ 8 → Laat met een berekening zien dat de kleinste hoek tussen de wijzers bij de 12-uurs klok om twee uur 60° is.

Er bestaan naast de gewone 12-uurs klok ook andere soorten klokken. Bijvoorbeeld een 24-uurs klok. Hieronder zie je twee tekeningen van zo'n klok. Eronder staat welk tijdstip iedere klok aangeeft.



De grote wijzer van de 24-uurs klok gaat in één uur één keer rond. De kleine wijzer van de klok gaat in 24 uur één keer rond.

- 4p ○ 9 → Bereken de grootte van de kleinste hoek tussen de wijzers bij de 24-uurs klok om 14.00 uur. Schrijf je berekening op.
- 2p ○ 10 In het uitwerkboekje bij vraag 10 is de wijzerplaat van een 24-uurs klok getekend.
→ Teken in het uitwerkboekje bij vraag 10 nauwkeurig de wijzers van de klok als het half vijf 's morgens is.

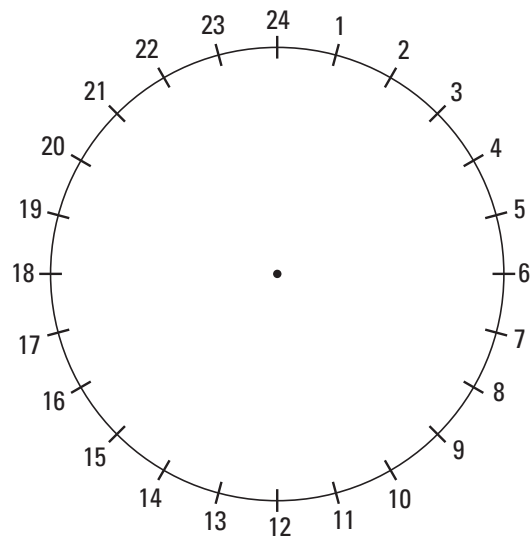


- 5p ○ 11 Naast ronde klokken zijn er klokken en horloges met wijzerplaten van een andere vorm. Zie bijvoorbeeld bovenstaande foto.
- In het uitwerkboekje bij vraag 11 zie je een 12-uurs klok met weer een andere driehoekige wijzerplaat getekend. De plaats van de 12 en de wijzers-as is al aangegeven. De plaatsen van de getallen 1 tot en met 11 ontbreken nog.
- Teken in het uitwerkboekje bij vraag 11 op de rand van deze wijzerplaat nauwkeurig de streepjes voor de getallen 1 tot en met 11 op de goede plaats en zet de getallen erbij.

KLOKKEN

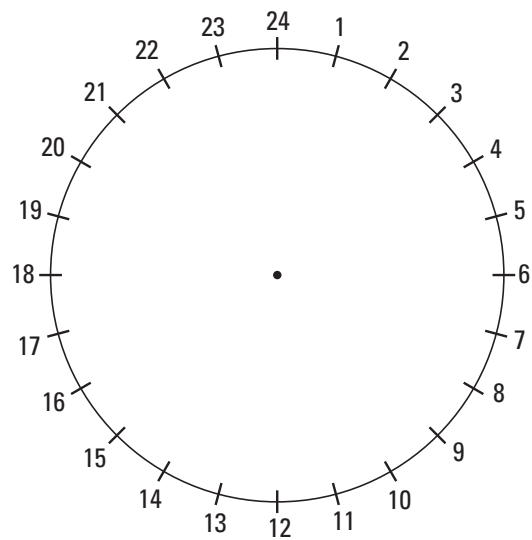
10

Deze is om te proberen.

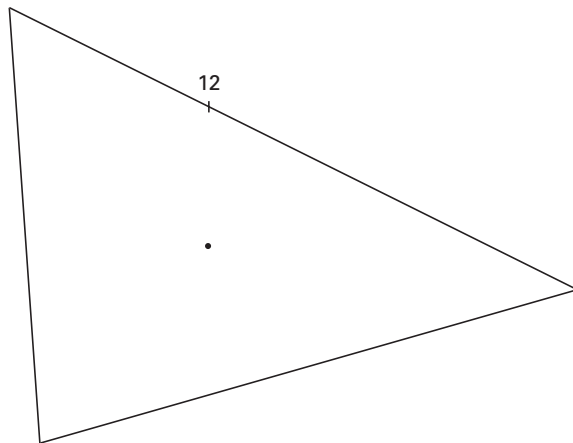


24-uurs klok

Deze is definitief.



24-uurs klok



driehoekige 12-uurs klok