


Boombank



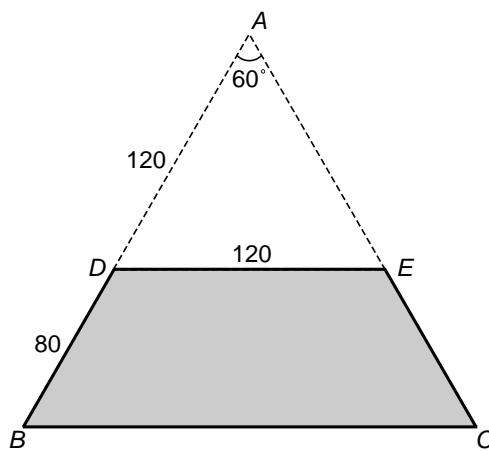
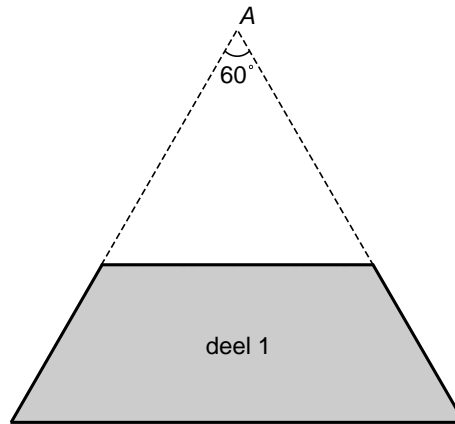
Hierboven zie je een boombank die bestaat uit zes gelijke delen waar je op kunt zitten. De binnen- en buitenrand van de boombank hebben de vorm van een regelmatige zeshoek.

- 3p **15** Op de uitwerkbijlage staat een tekening van deel 1 van de bank. In die tekening zijn ook enkele hulplijnen gestippeld.
→ Teken in die tekening op de uitwerkbijlage de delen 2 en 6 erbij.
- 2p **16** In de tekening op de uitwerkbijlage staat dat hoek A 60° is.
→ Laat met een berekening zien dat hoek A inderdaad gelijk is aan 60° .
- 3p **17** In de tekening op de uitwerkbijlage is te zien dat $AD = 120$ cm, $BD = 80$ cm en $DE = 120$ cm.
→ Laat zien dat BC gelijk is aan 200 cm.
- 5p **18** In de tekening op de uitwerkbijlage staat deel 1 van de boombank. Daarin is ook de hoogte h aangegeven.
→ Bereken hoeveel cm^2 de oppervlakte van deel 1 van de boombank is. Schrijf je berekening op.

uitwerkbijlage

Boombank

15 en 16



18 De maten zijn in cm.

